

**ESAME DI STATO - ABILITAZIONE DI ARCHITETTO JUNIOR
SECONDA SESSIONE 2015**

Prova Pratica e Prima Prova Scritta

Tema 1B

Prova pratica

Con riferimento alle planimetrie di una unità immobiliare posta al piano terra, di cui all'allegato n. 1B e n. 2B in scala 1:100 (stato di fatto e sistemazione di progetto), il Candidato sviluppi:

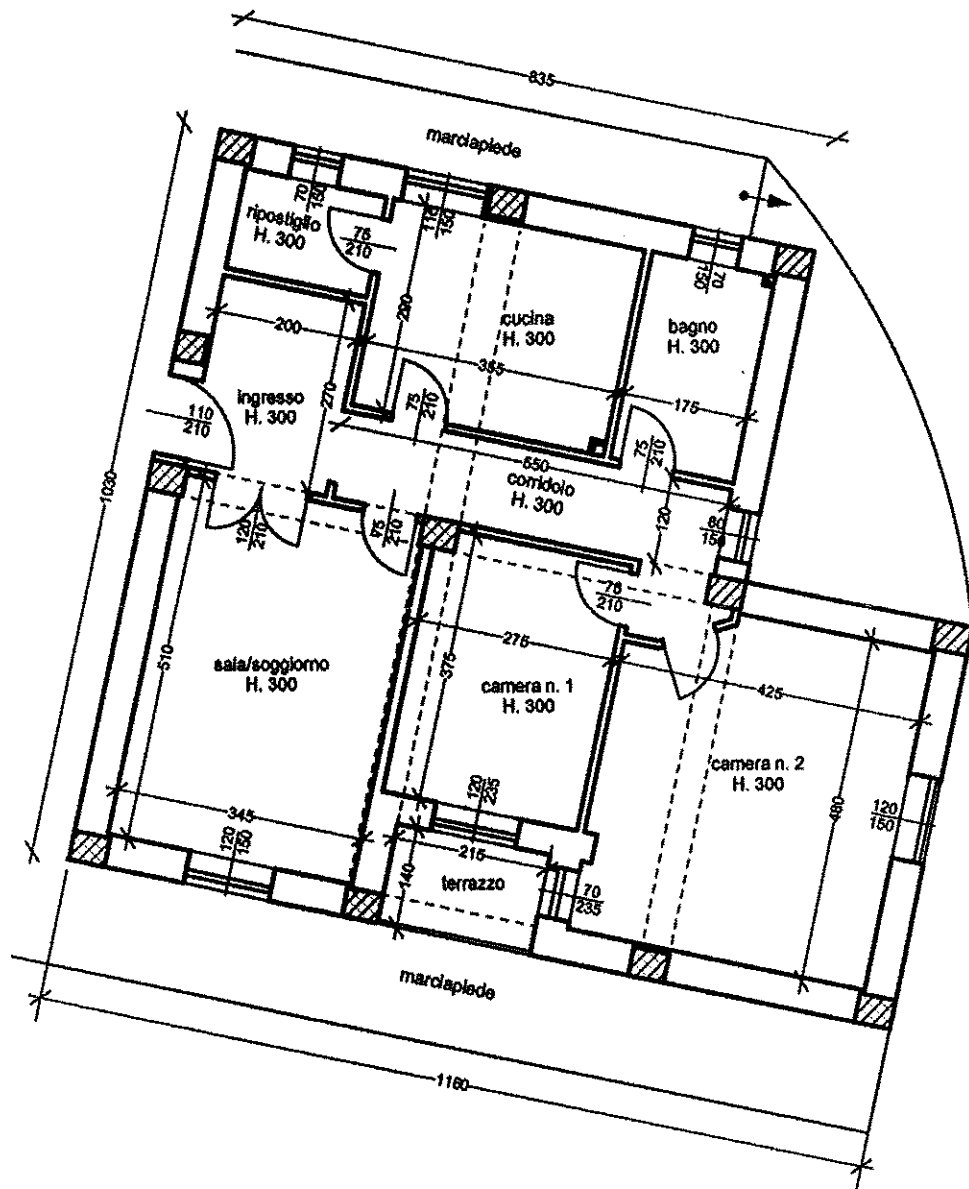
- le piante di raffronto tra lo stato di fatto e sistemazione di progetto delle opere interne (rossi e gialli) in scala 1:100;
- con riferimento alla sistemazione di progetto, il calcolo dei rapporti aero/illuminanti di tutti i locali nel rispetto del Regolamento di igiene, evidenziando i locali in cui eventualmente tali rapporti non risultano verificati;
- con riferimento alla sistemazione di progetto, la disposizione degli arredi per l'utilizzo di almeno un bagno per persone diversamente abili (DPR 384/78, D.P.R. 236/89, D.P.R. 503/96) in scala 1:50;
- il particolare costruttivo della parete esterna ipotizzando un rivestimento esterno del tipo "a cappotto" in scala 1:20;

Prima Prova scritta

- Redigere il computo metrico estimativo, completo di descrizione delle lavorazioni, di tutte le opere necessarie per la realizzazione dell'intervento di adeguamento del servizio igienico alle persone diversamente abili.

STATO DI FATTO

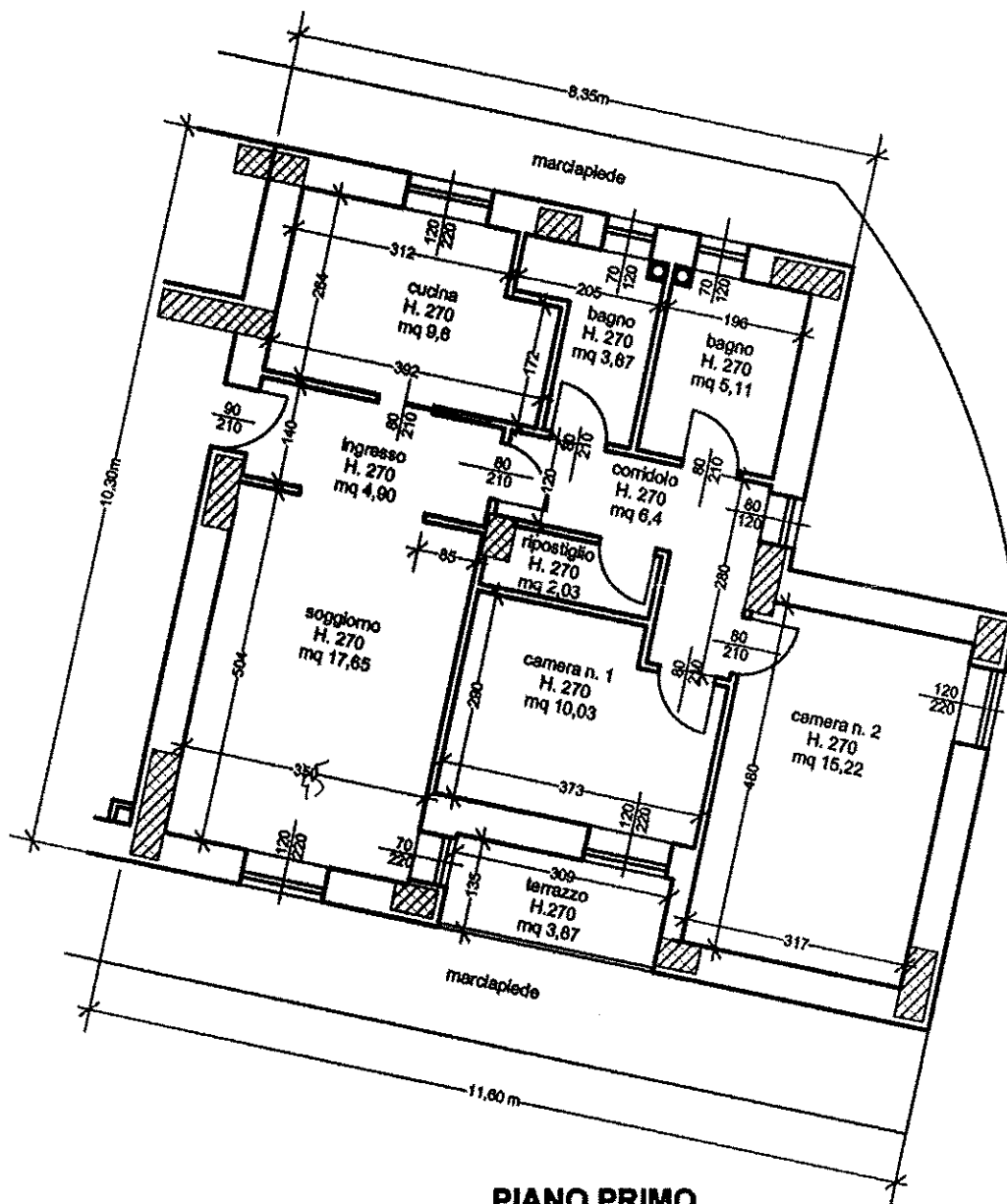
ALLEGATO 1B



PIANO PRIMO
scala 1:100

SISTEMAZIONE DI PROGETTO

ALLEGATO 2B



PIANO PRIMO
scala 1:100

**ESAME DI STATO - ABILITAZIONE DI ARCHITETTO JUNIOR
SECONDA SESSIONE 2015**

Prova Pratica e Prima Prova Scritta

Tema 2B

Prova pratica

Con riferimento agli elaborati grafici allegati (n. 1 e n. 2) si chiede al candidato di:

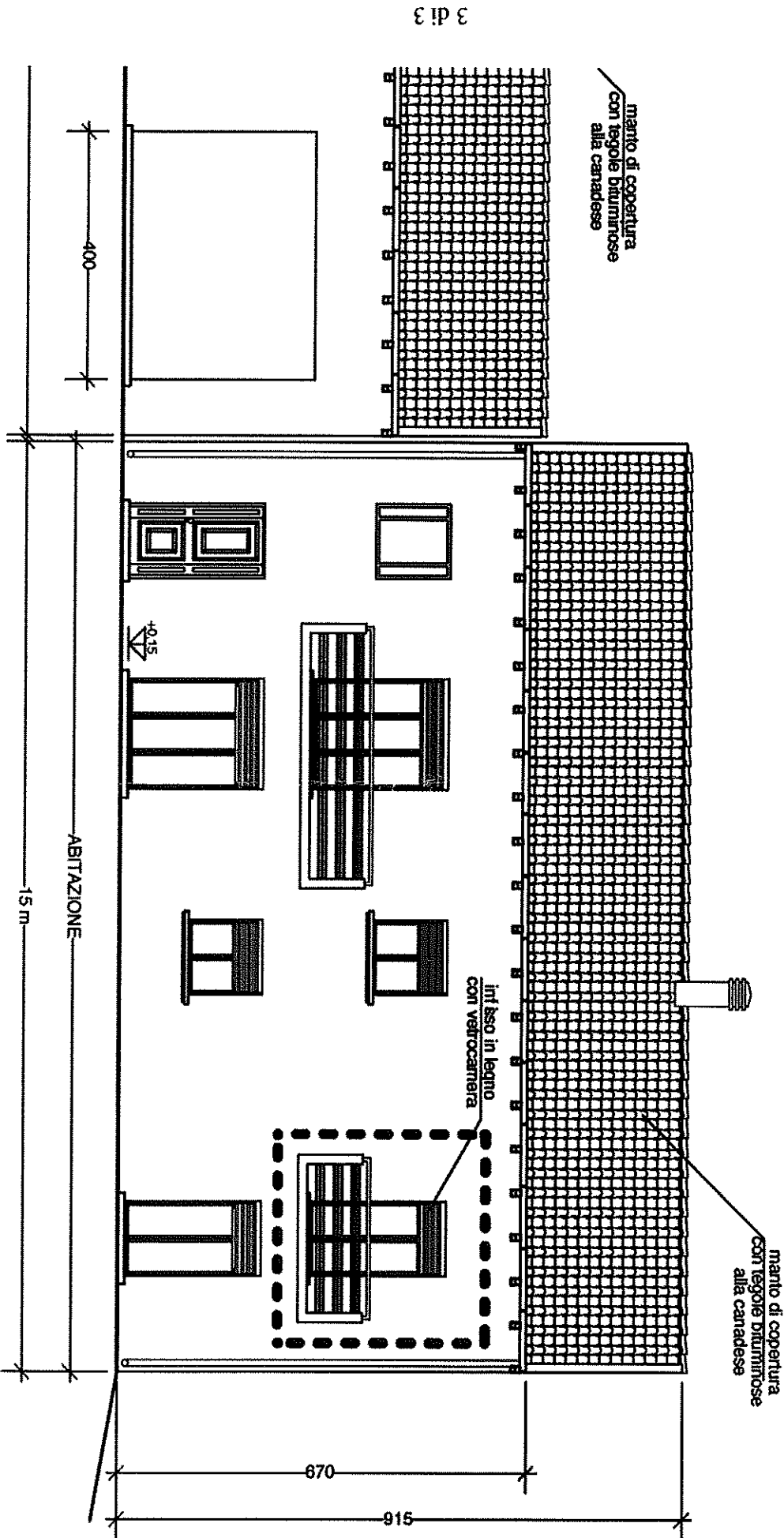
- Riprodurre in scala 1:50 la pianta del piano primo, inserendo con grafia appropriata i dettagli tipici di questa scala di rappresentazione, ipotizzare una disposizione degli arredi e lo schema strutturale, indicando gli elementi portanti verticali e rappresentando la stratigrafia delle chiusure e partizioni verticali con adeguata simbologia;
- Sviluppare in scala 1:20 la sezione orizzontale della porzione di fabbricato evidenziato nella planimetria e prospetto allegati, con il tratteggio, ipotizzando un rivestimento esterno del tipo a cappotto.

Prima Prova scritta

- In riferimento alla prova pratica, il Candidato rediga una relazione Tecnica/illustrativa a corredo del progetto per la richiesta del Permesso di Costruire

PROSPETTO PRINCIPALE
Scala 1:100

ALLEGATO N. 2 - TRACCIA n. 2



**ESAME DI STATO - ABILITAZIONE DI ARCHITETTO JUNIOR
SECONDA SESSIONE 2015**

Seconda Prova Scritta

Tema ~~1~~A

Seconda Prova scritta

- In riferimento alla Prova Pratica e alla Prima Prova Scritta, Il Candidato rediga una Relazione Tecnica ed Illustrativa a corredo del Progetto per la richiesta del titolo abilitativo, illustrando le scelte adottate, e i materiali utilizzati.

Tema ~~2~~B

Seconda Prova scritta

- Il candidato illustri descrivendo dettagliatamente tutti gli elaborati necessari a redigere la contabilità e la gestione di un'opera Pubblica.